



# Pracovní list č. 3



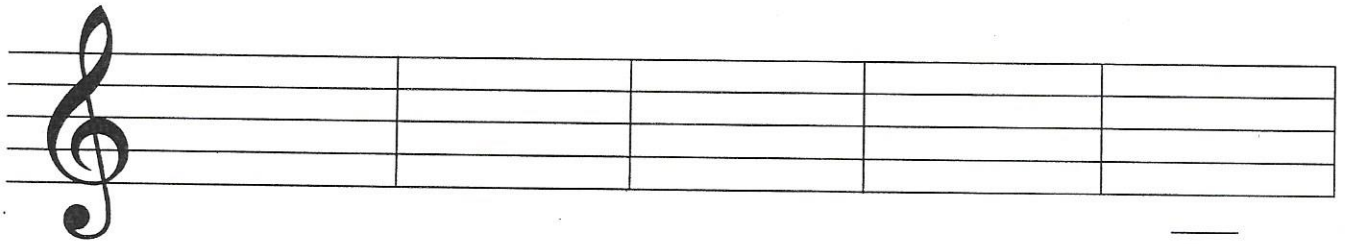
Spoj čiarou noty a ich názvy.



d<sup>1</sup>                      f<sup>1</sup>                      c<sup>1</sup>                      g<sup>1</sup>                      e<sup>1</sup>



Napiš polové noty. Potom zakrúžkuj červenou notu g<sup>1</sup> a modrou notu c<sup>1</sup>.

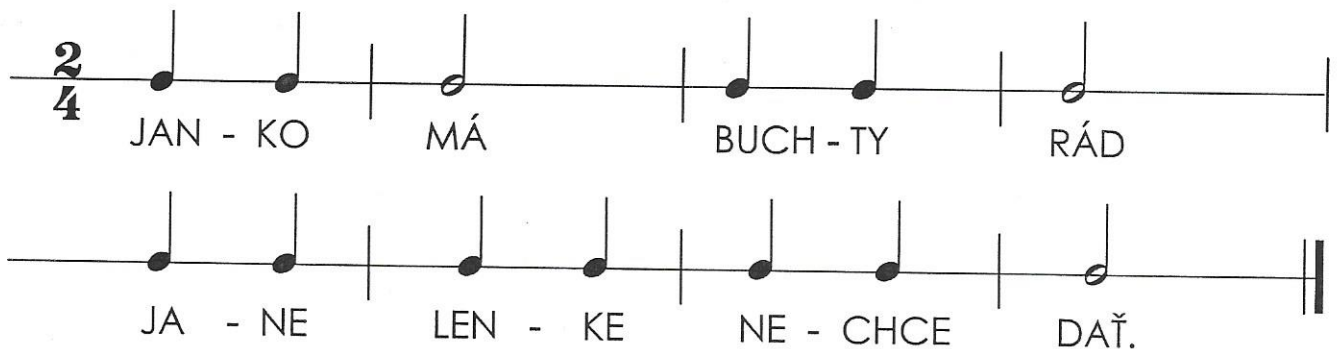


g<sup>1</sup>                      f<sup>1</sup>                      e<sup>1</sup>                      d<sup>1</sup>                      c<sup>1</sup>



Naučte sa a vytlieskajte riekanku.

Zakrúžkuj všetky polové noty. Spočítaj všetky takty. Koľko ich je?

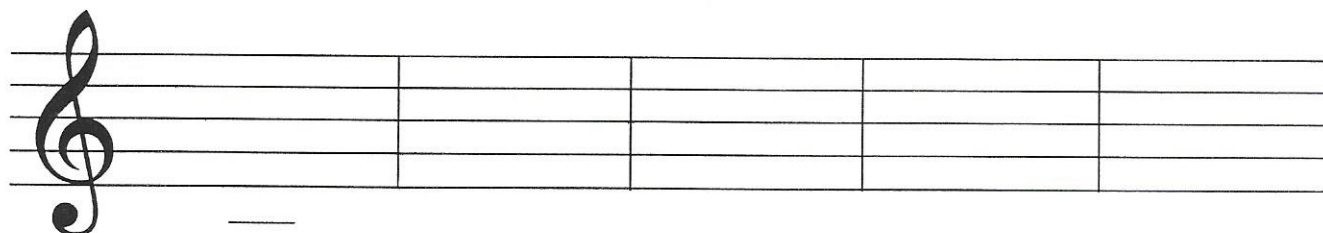




# Pracovný list č. 4



Napíš polové noty.



c<sup>1</sup>

d<sup>1</sup>


e<sup>1</sup>

f<sup>1</sup>

g<sup>1</sup>



Zakrúžkuj noty c<sup>1</sup> červenou, e<sup>1</sup> zelenou, g<sup>1</sup> modrou. Prečítajte noty a vymyslite text.



Spoj čiarou, čo patrí k sebe.



nota štvrťová

nota celá

nota polová



**Takt**  $\frac{2}{4}$

Vytlieskaj rytmické cvičenie v dvojštvrtovom takte, počítaj nahlas.

